

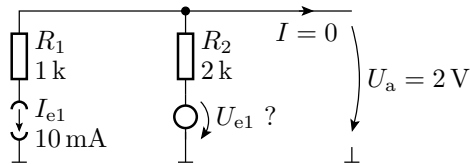
# Elektronik II, Übungsblatt 1 (12P)

Prof. G. Kemnitz, Dr. C. Giesemann, TU Clausthal, Institut für Informatik

27. März 2015

## Aufgabe 1.1

Legen Sie in der nachfolgenden Schaltung die Quellspannung  $U_{e1}$  so fest, dass sich für  $U_a$  als Leerlaufspannung 2 V einstellt: 2P



## Aufgabe 1.2

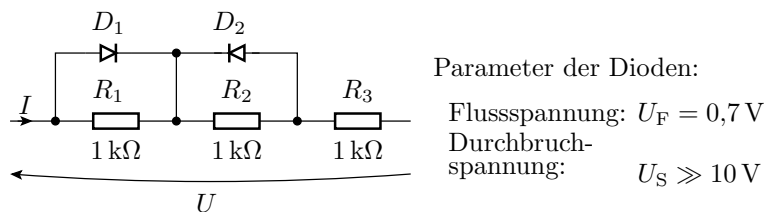
Bestimmen Sie die Strom-Spannungs-Beziehungen des Zweipols in der nachfolgenden Abbildung im Bereich:

$$-100 \text{ mA} < I < 100 \text{ mA}$$

Dabei sind folgende Teilaufgaben zu lösen:

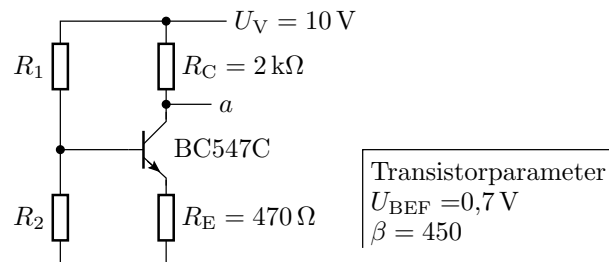
- Abschätzung der zu unterscheidenden Arbeitsbereiche
- Aufstellung der linearen Ersatzschaltung für jeden Arbeitsbereich
- Aufstellen der gesuchten Strom-Spannungs-Beziehungen
- Aufstellung der Gültigkeitsbereiche.

6P



**Aufgabe 1.3**

Gegeben ist die nachfolgende Transistorschaltung:



- a) Zeichnen Sie die lineare Ersatzschaltung mit dem Transistor im Normalbereich. 2P
- b) Legen Sie die Widerstände  $R_1$  und  $R_2$  so fest, dass durch  $R_2$  etwa der zehnfache Basisstrom fließt und sich am Ausgang  $a$  ein Potenzial von  $4,75 \text{ V}$  einstellt. 4P