



Elektronik 1, Foliensatz 1: Einleitung, physikalische und mathematische Grundlagen

G. Kemnitz

Institut für Informatik, TU-Clausthal (E1F1.pdf)
28. Oktober 2021



Inhalt des ersten Foliensatzes

Physik

- 1.1 Energie, Potential und Spannung
- 1.2 Strom
- 1.3 Ohmsches Gesetz
- 1.4 Leistung
- 1.5 Aufgaben

Mathematik

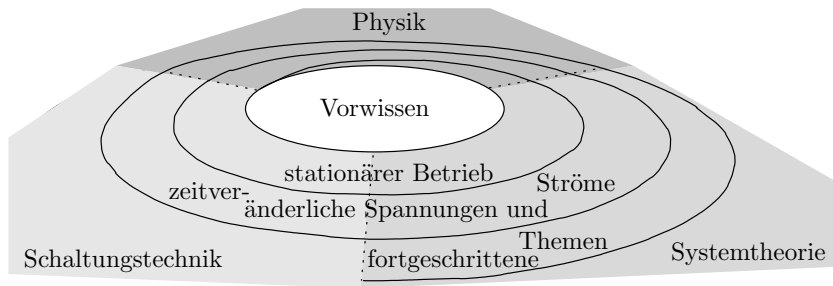
- 2.1 Knoten- und Maschengleichungen
- 2.2 Lineare Zweipole
- 2.3 Nützliche Vereinfachungen
- 2.4 Gesteuerte Quellen
- 2.5 Bauteile mit nichtlinearer Kennlinie
- 2.6 Fehler in der Ersatzschaltung
- 2.7 Aufgaben



Einleitung

- Die Elektronik entwickelt sich sehr schnell.
- Welches Wissen ist auch noch in 10 bis 20 Jahren nützlich?
 - Die physikalischen und technischen Grundlagen.
 - Grundtechniken für die Modellbildung, die Simulation und den Entwurf.
 - Erarbeiten von Wissen aus Büchern etc.
 - Gesundes Einschätzungsvermögen, was möglich und was Phantasie ist.
- Grundsäulen der Wissensvermittlung:
 - Physikalische Grundlagen:
 - Was ist Strom, was ist Spannung, ...
 - Systemtheorie (Mathematik):
 - Lineare Systeme, Frequenzraum, ...
 - Schaltungstechnik.

Lernprozess als Iteration





Erster Lernzyklus: Stationäre Systeme

Beschränkung auf den Sonderfall, dass Spannungen und Ströme in der Schaltung konstant sind. Themen:

- Physik: Welche physikalischen Gesetze sind dafür wichtig?
- Schaltungsanalyse: Lineare Ersatzschaltungen, Knoten- und Maschengleichungen, vereinfachte Rechenwege, ...
- Dioden: Ersatzschaltung, Gleichrichter, Logikschaltungen, ...
- Bipolartransistor: Ersatzschaltung, Verstärker, Logikschaltungen, ...
- MOS-Transistor: Verstärker, Logikschaltungen, ...
- Operationsverstärker: Verstärker, Addierer, Subtrahierer, Schwellwertschalter, Analog-Digital- und Digital-Analog-Wandler, ...



Foliensätze zur Vorlesung Elektronik 1

Stationäre Systeme

- 1 Physikalische und mathematische Grundlagen.
- 2 Handwerkszeug bis Schaltungen mit Dioden.
- 3 Schaltungen mit Bipolartransistoren.
- 4 Schaltungen mit MOS-Transistoren und Operationsverstärkern.

Zeitveränderliche Ströme und Spannungen

- 5 Kapazitäten und Induktivitäten, zeitdiskrete Modellierung.
- 6 Geschaltete Systeme.
- 7 Frequenzraum.

Forgeschrittene Themen

- 8 Halbleiter.
- 9 Leitungen.



Physik



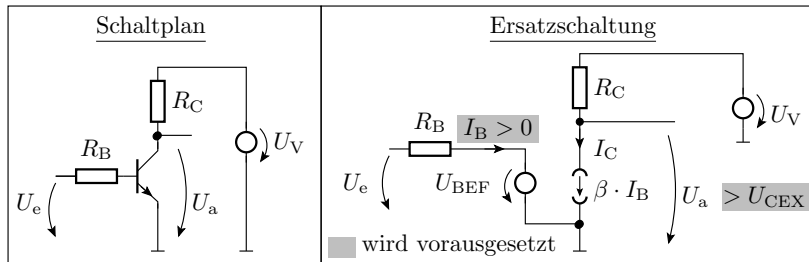
Welche Gesetze bestimmen das Verhalten einer Schaltung im stationären Betrieb?

Definition Modell

Ein Modell ist ein Mittel, um einen Zusammenhang zu veranschaulichen. Es stellt die wesentlichen Sachverhalte dar und verbirgt unwesentliche Details.

Die Modelle für die Beschreibung der Funktion elektronischer Schaltungen sind:

- Schaltpläne und
- Gleichungssysteme.



Tatsache

In den Schaltungsbeschreibungen fehlt die Geometrie der Bauteile und Verbindungen. Es sind offenbar nur ortunabhängige physikalischen Zusammenhänge wesentlich, bei denen es keine Rolle spielt, wie Bauteile angeordnet und verbunden werden.



Energie, Potential und Spannung



Die betrachteten physikalischen Größen

	Symbol	Maßeinheit
Kraft (Vektor)	\vec{F}	N (Newton)
Feldstärke (Vektor)	\vec{E}	N/C=V/m
Ladung, Probeladung	Q	C=As (Coulomb)
Energie	W	J=Nm=Ws (Joule) eV= $1,6 \cdot 10^{-19}$ J (Elektronenvolt)
Spannung	U	V (Volt)
Potenzial	φ	V (Volt)

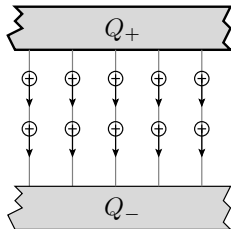
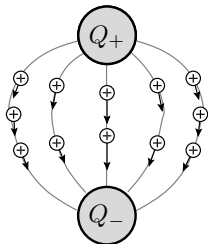
Elektrische Kraft und Feldstärke

- Coulombsches Gesetz:

$$F = \frac{1}{4\pi\epsilon} \cdot \frac{Q_1 \cdot Q_2}{r^2}$$

- Feldstärke (Definition):

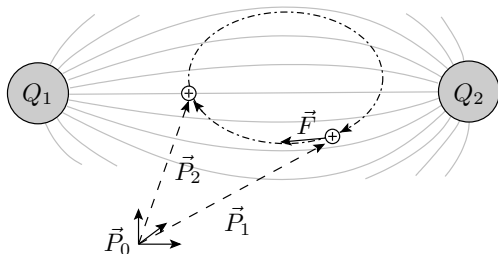
$$\vec{E} = \vec{F}/Q$$



ϵ	Dielektrizitätskonstante
r	Abstand
Q_+	positive Ladung
Q_-	negative Ladung
\oplus	Probeladung
\rightarrow	Kraft auf die Probeladung
$—$	Feldlinie

Energieerhaltungssatz für die Bewegung einer Ladung in einem elektrischen Feld

von \vec{P}_1 nach \vec{P}_2	geschlossene Bahn
$W = \int_{\vec{P}_1}^{\vec{P}_2} \vec{F} \cdot d\vec{s}$	$W = \int_{\vec{P}_1}^{\vec{P}_1} \vec{F} \cdot d\vec{s} = 0$ ortsunabhängig!



- $-\ - \rightarrow$ Ortsvektor
- $—$ Feldlinien
- $- \cdot - \rightarrow$ Bewegungsbahn der Probeladung
- \vec{P}_0 Bezugspunkt



Definition Potenzial

Das **Potenzial** der Ladungsträger eines Punktes \vec{P} ist die erforderliche Energie, um sie vom Bezugspunkt \vec{P}_0 zum Punkt \vec{P} zu bewegen, geteilt durch die Größe der bewegten Ladung Q .

$$\varphi(\vec{P}) = \frac{W(\vec{P}) - W(\vec{P}_0)}{Q}$$

Die Energiedifferenz ist das Integral der Kraft über den Weg. Die Potenziendifferenz als Energiedifferenz pro Ladung ist folglich das Integral der Kraft pro Ladung, d.h. der Feldstärke über den Weg:

$$\varphi(\vec{P}) = \int_{\vec{P}_0}^{\vec{P}} \vec{E} \cdot d\vec{s}$$



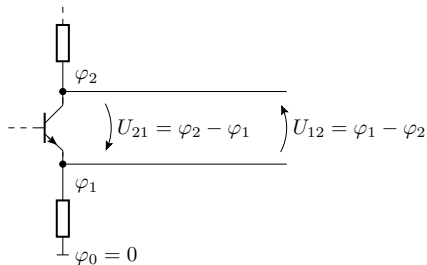
Definition Spannung







Die **Spannung** zwischen zwei Punkten \vec{P}_1 und \vec{P}_2 ist die erforderliche Energie, um Ladungsträger vom Punkt \vec{P}_1 zum Punkt \vec{P}_2 zu transportieren, geteilt durch die Größe der bewegten Ladung.

Das ist die Potentialdifferenz:

$$U_{21} = \varphi(\vec{P}_2) - \varphi(\vec{P}_1)$$

Potenzial- und Spannungsangaben in Schaltplänen, Spannungspfeile



- | | | |
|---|---|--|
|  |  | Schaltsymbole für Bauteile
(Transistor, Widerstand) |
|  | | Verbindung, Äquipotentialpunkte in einer Schaltung |
|  | | Verbindung mit Abzweig |
|  | | Bezugspunkt (Masse) |
|  | | Spannungspfeil |



Achtung Zerstörungsgefahr

- Hohe Feldstärken von $10^6 \dots 10^7 \frac{\text{V}}{\text{m}}$ können wie ein Blitz bei einem Gewitter Isolatoren in Leiter verwandeln. Durchschlag der Isolation.
- Die Folge ist meist eine thermische Zerstörung (Schmelzung, Verdampfung, ... des Isolators).
- In der Mikroelektronik treten wegen der geringen Abmessungen zum Teil höhere Feldstärken als in der Starkstromtechnik auf.
- Die Grenzwerte aus den Datenblättern für die Spannungen zwischen Bauteilanschlüssen müssen stets eingehalten werden!



Strom



Symbol und Definition

	Symbol	Maßeinheit/Wert
Strom	I	A (Ampere)
Elementarladung	q (Konstante)	$1,6 \cdot 10^{-19} \text{As}$

Definition

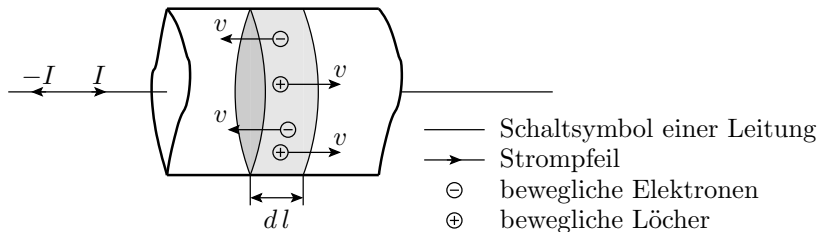
Strom ist bewegte Ladung pro Zeit:

$$I = \frac{dQ}{dt}$$

Modellierung durch die Bewegung von Ladungsträgern

$$I = \frac{dQ}{dl} \cdot \frac{dl}{dt} = Q_1 \cdot v$$

(Q_1 – Flächenladung).



Stromarten

- 1 Driftstrom:
Feldgetriebene Bewegung (μ – Beweglichkeit)

$$\vec{v} = \mu \cdot \vec{E} \quad (1)$$

- 2 Umladestrom:
Ladungsverschiebungen im Zusammenhang mit Feldstärke-,
Spannungs- und Potenzialänderung. Im stationären Betrieb per
Definition null.
- 3 Diffusionsstrom:
Ausgleich der Konzentrationsunterschiede der beweglichen
Ladungsträger an Grenzschichten zwischen unterschiedlichen
Materialien durch die thermische Bewegung.
- 4 Rauschstrom:
Ungerichtete thermische Bewegung.



Kontinuität der Ladungsbewegung

- In einem Leiter regelt sich die Feldstärke im stationären Zustand so ein, dass die Menge der zufließenden Ladungsträger an jedem Punkt gleich der Menge der abfließenden Ladungsträger ist.
- Bei Störung dieses Gleichgewichts akkumulieren sich Ladungen, die eine Feldstärkeänderung verursachen, die der Gleichgewichtsstörung entgegen wirkt¹.

Tatsache

Im stationären Zustand gilt **unabhängig von der Geometrie**, dass die Summe der zufließenden Ströme in jedem Punkt null ist. Wegfließende Ströme sind negative zufließende Ströme.

¹Feldstärkeänderungen bewirken Spannungsänderung. Das ist dann kein stationärer Betrieb mehr.



Ohmsches Gesetz



Symbole und Definition

	Symbol	Maßeinheit/Wert
Widerstand	R	Ω (Ohm)
Leitwert	G	$S = \Omega^{-1}$ (Siemens)

Der Driftstrom durch einen Leiter verhält sich oft proportional zur Spannung über dem Leiter^a:

$$R = \frac{U}{I} \quad G = \frac{I}{U}$$

^abzw. wird durch eine lineare Beziehung angenähert.

Zählrichtung und Modellierung



Modelle für Leiter:

- Verbindung, wenn Spannungsabfall vernachlässigbar

$$U \approx 0$$

- sonst Widerstand

$$U = R \cdot I$$



Leistung

Symbole und Definition

	Symbol	Maßeinheit
Leistung	P	$W = V \cdot A$ (Watt)
Verlustleistung	P_V	$W = V \cdot A$ (Watt)

Definition

Die Leistung ist die umgesetzte Energie pro Zeit^a:

$$P = \frac{dW}{dt} = U \cdot I$$

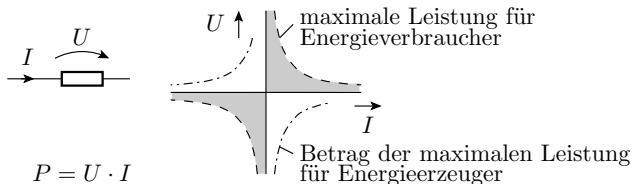
^aHerleitung: $U, I \neq f(t)$; $W = U \cdot Q = U \cdot I \cdot t$; $\frac{dW}{dt} = U \cdot I$

Verlustleistung ist die in Wärme umgesetzte Energie pro Zeit.

Verlustleistung

Die in Wärme umgesetzte Energie muß zur Vermeidung thermischer Zerstörung ausreichend schnell abgeführt werden.

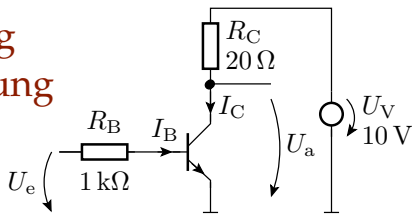
- Die maximale Verlustleistung berechnet sich
 - aus der Differenz der maximal zulässigen internen Temperatur und der Umgebungstemperatur sowie
 - dem Wärmewiderstand,
- ist erhöhbar durch bessere Kühlung (Lüfter, ...),
- steht im Datenblatt und ist unbedingt einzuhalten.



Statt zwischen Energieverbrauchern und -erzeugern unterscheidet die Vorlesung zwischen positivem und negativem Leistungsumsatz.

Maximale Verlustleistung in einer Transistorschaltung

In dieser Transistorschaltung lässt sich über einen Strom I_B der Strom I_C so steuern, dass die Ausgangsspannung U_a von $\approx 0 \text{ V}$ bis U_V verändert werden kann. Für Abschätzungen der Leistung ist $I_B \approx 0,01 \cdot I_C$ vernachlässigbar. Wie groß muss die zulässige Verlustleistung von R_C und von dem Transistor sein?



Verlustleistung von R_C in Abhängigkeit von U_a :

$$P_{RC} = U_{RC} \cdot I_C = (U_V - U_a) \cdot \frac{(U_V - U_a)}{R_C}$$

Maximum bei $U_a = 0$:

$$P_{RC.\max} = \frac{U_V^2}{R_C} = \frac{(10 \text{ V})^2}{20 \Omega} = 5 \text{ W}$$

Die Verlustleistung des Transistors ist etwa das Produkt aus Kollektorstrom und Ausgangsspannung:

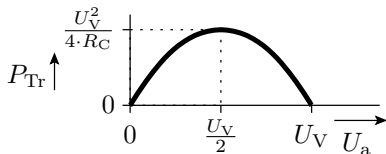
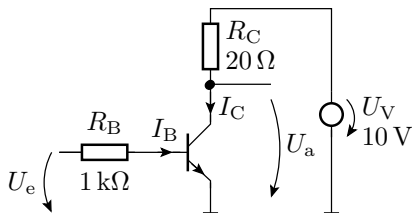
$$\begin{aligned}
 P_{Tr} &= I_C \cdot U_a \\
 &= \frac{U_V - U_a}{R_C} \cdot U_a
 \end{aligned}$$

Das Maximum, die Nullstelle der Ableitungen

$$\begin{aligned}
 0 &= \frac{d(I_C \cdot (U_V - R_C \cdot I_C))}{d I_C} \\
 I_C &= \frac{U_V}{2 \cdot R_C}
 \end{aligned}$$

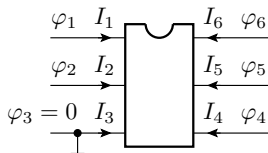
liegt bei $U_a = \frac{U_V}{2}$ und beträgt:

$$\begin{aligned}
 P_{Tr.max} &= \frac{U_V^2}{4 \cdot R_C} \\
 &= \frac{P_{RC.max}}{4} \\
 &= 1,25 \text{ W}
 \end{aligned}$$



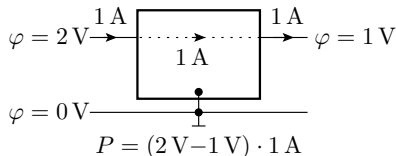
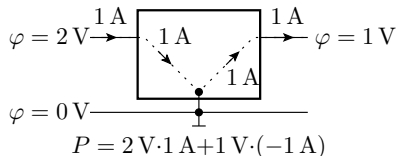
Bauteile in einer Schaltung müssen die maximale Verlustleistung vertragen!

Mehr als zwei zu berücksichtigende Bauteilströme



$$P = \sum_{i=1}^6 \varphi_i \cdot I_i$$

Summe der Produkte aus Potential und hereinfließendem Strom für alle Anschlüsse. Wie kann man sich das herleiten?²



²Man denkt sich zuerst, dass alle Ströme am Anschluss mit Potential null herausfließen. Dafür gilt die Gleichung. Wenn die Ströme in Wirklichkeit an anderen Anschlüssen herausfließen, ändert sich nichts am Leistungsumsatz ...

Inbetriebnahmeregeln

Statistisch gesehen ist es nicht zu vermeiden, dass beim Entwurf und beim Aufbau von Schaltungen Fehler entstehen, auch solche, bei denen zu hohe Verlustleistungen auftreten. Zur Vermeidung der Zerstörung von Bauteilen sind in den Laborübungen vor der ersten Inbetriebnahme und nach jeder Änderung an einer Schaltung folgende Tests durchzuführen:

- Sichtkontrolle im spannungsfreien Zustand.
- Elektrische Verbindungskontrolle mit einem Durchgangsprüfer, Multimeter oder Tester ohne Betriebsspannung.
- Rauchttest: Test mit Strombegrenzung und ständiger Kontrolle auf Erwärmung und Rauchentwicklung.

Während der Änderung an Schaltungen ist immer die Versorgungsspannung auszuschalten!



Aufgaben

Aufgabe 1.1: Feldstärke

Wo treten höhere Feldstärken auf, in der Haushaltselektrik, in der die Leitungen, die Spitzenspannungen bis zu etwa 500 V führen, durch eine 1 mm dicke Kunststoffschicht isoliert sind, oder in der Mikroelektronik, in der leitende Gebiete mit einem Potenzialunterschied von 1 V durch eine 100 nm dicke Oxidschichten getrennt sind?



Aufgabe 1.2: Driftgeschwindigkeit

- 1 Wie hoch ist die Driftgeschwindigkeit der beweglichen Elektronen in einen Kupferleiter mit einem Querschnitt von $A = 0,1 \text{ mm}^2$, der von einem Strom von 10 mA durchflossen wird³?
- 2 Stellen Sie ihr Ergebnis in Relation zu der Aussage: »Der elektrische Strom ist so schnell, dass er im Bruchteil einer Sekunde die Erde umrunden könne.«
- 3 Wenn es nicht die beweglichen Ladungsträger sind, welche physikalische Größe ist es dann, die sich im Bruchteil einer Sekunde entlang einer Leitung um die Erde bewegt?

Hilfestellung: Sie benötigen Gl. $I = Q_1 \cdot v$. Kupfer hat ein bewegliches Elektron je Atom. Ein Kubikmillimeter Kupfer enthält $\approx 8,5 \cdot 10^{19}$ Atome. Elementarladung (Ladung je Elektron) $q = 1,6 \cdot 10^{-19} \text{ As}$

$$Q_1 \approx$$

$$v \approx$$

$$^3\text{Lsg.: } Q_1 = 1,36 \frac{\text{As}}{\text{mm}}, v = 7,35 \frac{\mu\text{m}}{\text{s}}.$$

Aufgabe 1.3: Zusammenhang zwischen Energie, Spannung und Strom

- 1 Welche Energie wird umgesetzt, wenn sich eine Ladung von 1 As vom Pluspol einer Batterie durch einen Verbraucher zum Minuspol bewegt und dabei eine Potenzialdifferenz von 4,5 V überwindet?

$$W =$$

- 2 Welche Energie wird umgesetzt, wenn der gesamte Weg der Ladung aus Aufgabenteil a vom Pluspol durch den Verbraucher zum Minuspol und durch die Batterie zurück zum Pluspol betrachtet wird?

- 3 Wie lange dauert der Ladungstransport, wenn der Verbraucher einen Widerstand von $R = 1 \text{ k}\Omega$ besitzt?

$$I =$$

$$t = \frac{Q}{I}$$

Aufgabe 1.4: Leistungsumsatz Widerstand

Wie groß darf der Spannungsabfall über einem Widerstand von $R = 1 \text{ k}\Omega$ mit einer zulässigen Verlustleistung vom $P_{V_{\max}} = 0,125 \text{ W}$ maximal sein?

$$P = U \cdot I$$

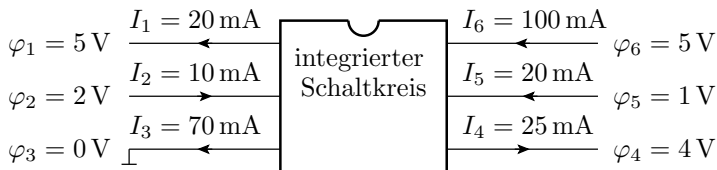
$$I(U, R) =$$

$$P(U, R) =$$

$$U(P, R) =$$

Aufgabe 1.5: Leistungsumsatz Schaltkreis

Durch Simulation wurden an den Anschlüssen eines Schaltkreises die nachfolgend dargestellten Ströme und Potenziale bestimmt.



Maximale Verlustleistung: ohne Kühlkörper $P_{V_{\max 1}} = 300 \text{ mW}$, mit Kühlkörper $P_{V_{\max 2}} = 1 \text{ W}$. Benötigt der Schaltkreis den Kühlkörper⁴?

$P =$

⁴Lsg.: 340 mW, ja.

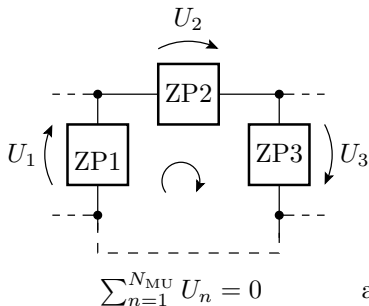


Mathematik

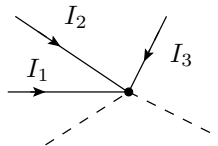
Kirchhoffsche Sätze

Maschensatz und Knotensatz:

- Die Summe aller Spannungsabfälle in einer Masche ist null.
- Die Summe aller in einen Knoten hineinfließenden Ströme ist null.



a)



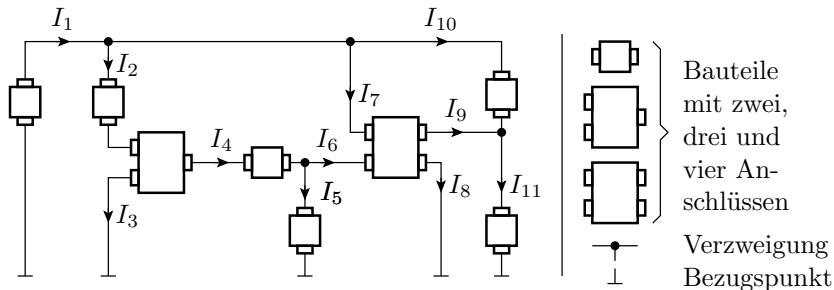
$$\sum_{n=1}^{N_{ZI}} I_n = 0$$

b)



Knoten- und Maschengleichungen

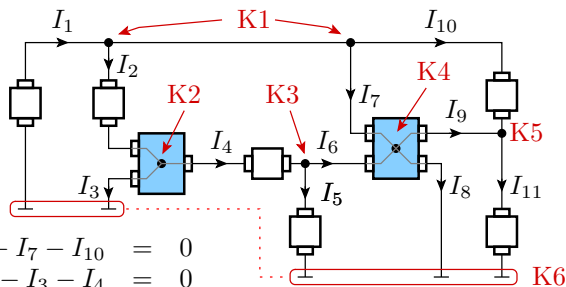
Was sind alles Knoten?



Ein Knoten ist ein Schaltungspunkt, in dem mehr als zwei Ströme zusammentreffen:

- Verzweigungen,
- interne Schaltungspunkte in Bauteilen mit mehr als zwei Anschlüssen und
- der Bezugspunkt.

Aufstellen der Knotengleichungen

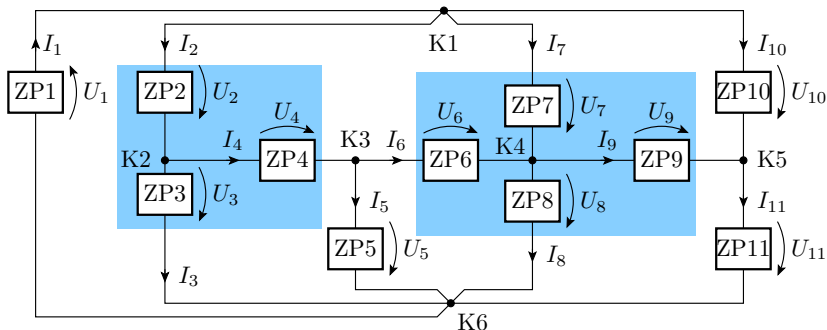


$$\begin{array}{lcl}
 \text{K1 :} & I_1 - I_2 - I_7 - I_{10} & = 0 \\
 \text{K2 :} & I_2 - I_3 - I_4 & = 0 \\
 \text{K3 :} & I_4 - I_5 - I_6 & = 0 \\
 \text{K4 :} & I_6 + I_7 - I_8 - I_9 & = 0 \\
 \text{K5 :} & I_9 + I_{10} - I_{11} & = 0 \\
 \text{K6 :} & -I_1 + I_3 + I_5 + I_8 + I_{11} & = 0 \text{ Linearkombination!}
 \end{array}$$

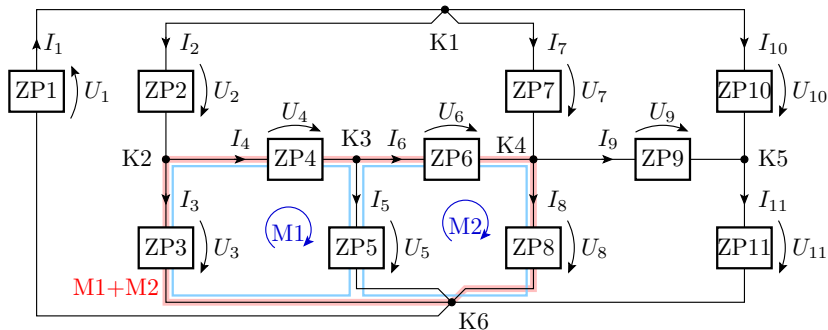


Vorbereitung für das Aufstellen von Maschengleichungen

- Transformation in eine Ersatzschaltung aus Zweipolen:



Aufstellen von Maschengleichungen

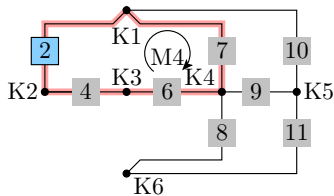
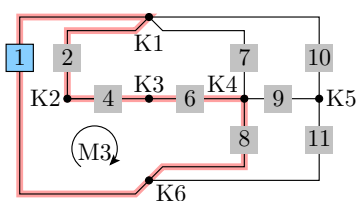
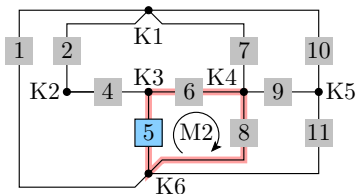
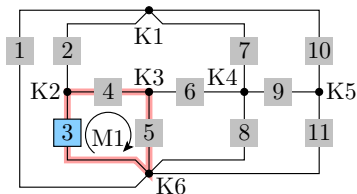


$$\begin{aligned}
 \text{M1 :} & \quad -U_3 + U_4 + U_5 = 0 \\
 \text{M2 :} & \quad -U_5 + U_6 + U_8 = 0 \\
 \text{M1 + M2 :} & \quad -U_3 + U_4 + \underbrace{U_5 - U_5}_{0} + U_6 + U_8 = 0
 \end{aligned}$$



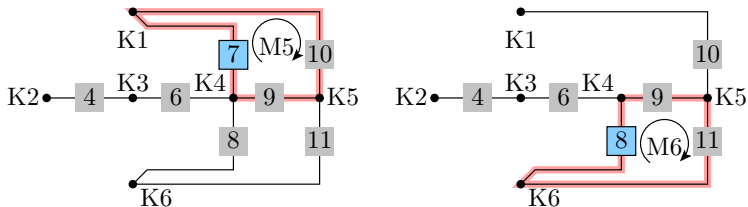
Suche linear unabhängiger Maschen

Regel: Jede Masche *verbraucht* einen Zweig, der in weiteren Maschengleichungen nicht mehr verwendet werden darf.

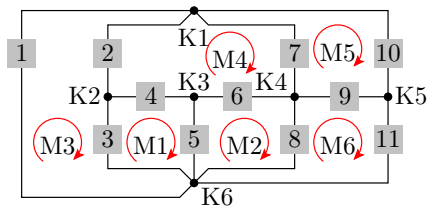




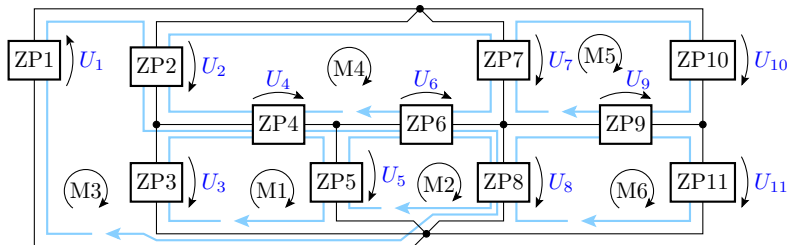
2. Mathematik 1. Knoten- und Maschengleichungen



Alle gefundenen Maschen:

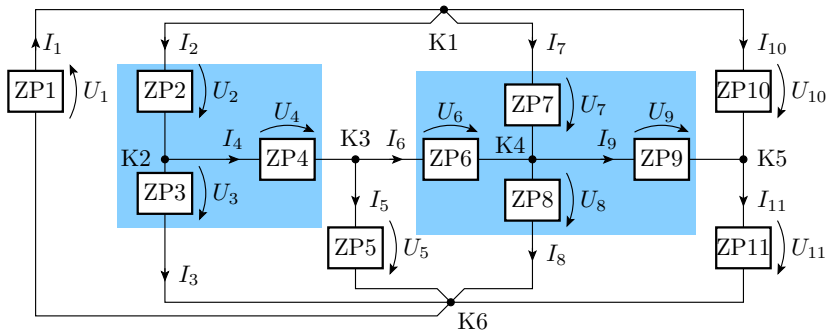


Aufstellen der Maschengleichungen



$$\begin{aligned}
 \text{M1 :} & \quad -U_3 + U_4 + U_5 = 0 \\
 \text{M2 :} & \quad -U_5 + U_6 + U_8 = 0 \\
 \text{M3 :} & \quad U_1 + U_2 + U_4 + U_6 + U_8 = 0 \\
 \text{M4 :} & \quad -U_2 + U_7 - U_6 - U_4 = 0 \\
 \text{M5 :} & \quad -U_7 + U_{10} - U_9 = 0 \\
 \text{M6 :} & \quad -U_8 + U_9 + U_{11} = 0
 \end{aligned}$$

Ergebnis



- 11 unbekannte Ströme,
- 11 unbekannte Spannungen,
- 5 linear unabhängige Knotengleichungen und
- 6 linear unabhängige Maschengleichungen.

Zur Lösbarkeit fehlen noch 11 lineare Gleichungen.



Die fehlenden Gleichungen

Jeder der N_Z Zweipole hat eine Strom-Spannungsbeziehung

$$I_i = f(U_i) \text{ oder } U_i = f(I_i)$$

mit der N_Z Unbekannte eliminiert werden können. Wenn diese gleichfalls linear sind, bilden sie zusammen mit den Knoten- und Maschengleichungen ein lösbares lineares Gleichungssystem aus N_Z linear unabhängigen Gleichungen mit N_Z Unbekannten.

Die Lösung nichtlinearer Gleichungssysteme derselben Größe ist viel schwieriger.

Tatsache

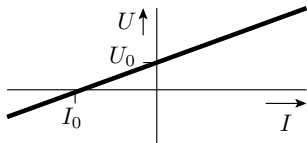
Die Schaltungsanalyse erfolgt nicht auf dem direkten Weg, sondern über den Umweg der Annäherung der Bauteile und Schaltungen durch Ersatzschaltungen aus linearen Zweipolen.



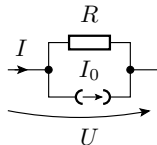
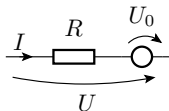
Lineare Zweipole

Verhaltensmodell eines linearen Zweipols

Strom-Spannungs-Kennlinie



Ersatzschaltungen



- Beschreibungsform $U(I)$:

$$U = U_0 + R \cdot I$$

- Beschreibungsform $I(U)$:

$$I = I_0 + G \cdot U = I_0 + \frac{U}{R}$$

- Ersatzwiderstand (Anstieg $\frac{dU}{dI}$) bzw. Ersatzleitwert (Anstieg $\frac{dI}{dU}$):

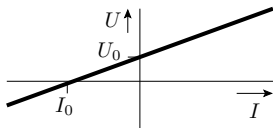
$$R = -\frac{U_0}{I_0}; \quad G = -\frac{I_0}{U_0}$$

Das Modell einer Quelle

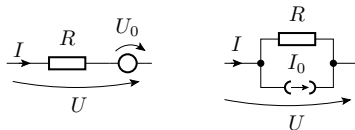
Spannungs- und Stromquellen sind Modelle für bekannte (vorgegebene, gemessene oder konstante) Spannungen und Ströme:

- Quelle für eine Versprgungsspannung (Batterie, Netzteil).
- Über einem Spannungsmessgerät ist die Spannung bekannt.
- Ein vorgegebener eingespeister Strom ist bekannt.
- Wenn eine nichtlineare Kennlinie stückweise parallel zur Spannungs- oder Stromachse verläuft, ist in diesem Bereich die Spannung bzw. der Strom bekannt.
- Parameter I_0 oder U_0 der Strom-Spannungs-Kennlinie.

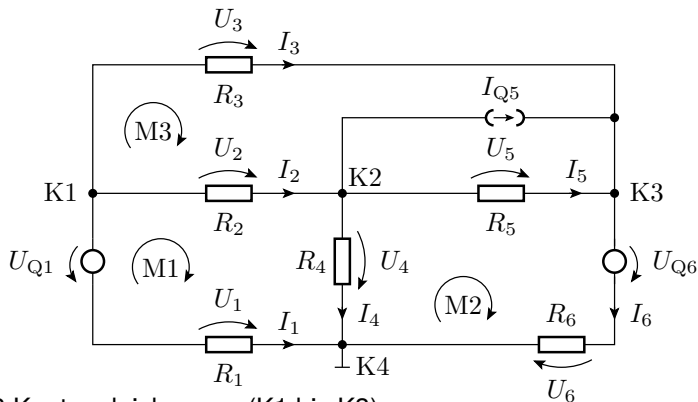
Strom-Spannungs-Kennlinie



Ersatzschaltungen



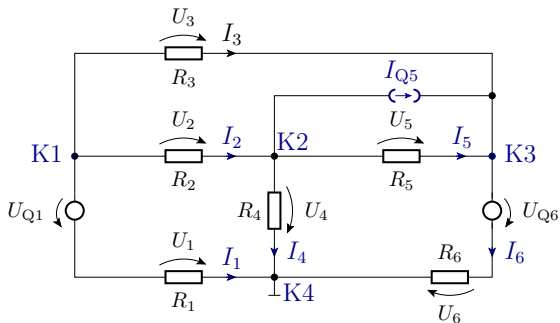
Beispiel einer Schaltungsanalyse



- 3 Knotengleichungen (K1 bis K3),
- 3 Maschengleichungen (M1 bis M3),
- 6 Zweige mit unbekanntem Strömen und Spannungen⁵.

⁵ I_{Q5} ist bekannt und die Spannung über I_{Q5} dieselbe wie über R_5 .

Knotengleichungen

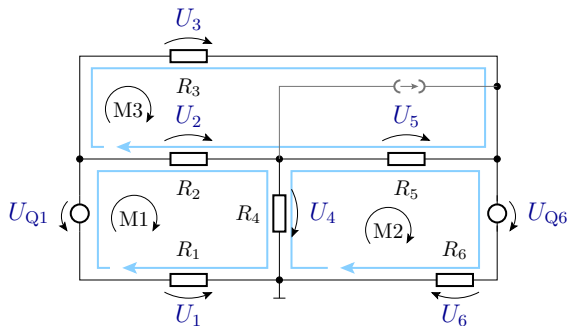


$$\text{K1 :} \quad -I_1 - I_2 - I_3 = 0$$

$$\text{K2 :} \quad I_2 - I_4 - I_{Q5} - I_5 = 0$$

$$\text{K3 :} \quad I_3 + I_5 + I_{Q5} - I_6 = 0$$

Maschengleichungen



$$\text{M1: } -U_{Q1} + U_2 + U_4 - U_1 = 0$$

$$\text{M2: } -U_4 + U_5 + U_{Q6} + U_6 = 0$$

$$\text{M3: } U_3 - U_5 - U_2 = 0$$

Warum keine Masche über R_5 und I_{Q5} ⁶?

⁶ R_5 und I_{Q5} bilden zusammen einen Zweipol.

In Matrixform mit $U_i = R_i \cdot I_i$

$$\begin{pmatrix} -1 & -1 & -1 & 0 & 0 & 0 \\ 0 & 1 & 0 & -1 & -1 & 0 \\ 0 & 0 & 1 & 0 & 1 & -1 \\ -R_1 & R_2 & 0 & R_4 & 0 & 0 \\ 0 & 0 & 0 & -R_4 & R_5 & R_6 \\ 0 & -R_2 & R_3 & 0 & -R_5 & 0 \end{pmatrix} \cdot \begin{pmatrix} I_1 \\ I_2 \\ I_3 \\ I_4 \\ I_5 \\ I_6 \end{pmatrix} = \begin{pmatrix} 0 \\ I_{Q5} \\ -I_{Q5} \\ U_{Q1} \\ -U_{Q6} \\ 0 \end{pmatrix}$$

Mit den Spannungen als Unbekannte

$$\begin{pmatrix} -\frac{1}{R_1} & -\frac{1}{R_2} & -\frac{1}{R_3} & 0 & 0 & 0 \\ 0 & \frac{1}{R_2} & 0 & -\frac{1}{R_4} & -\frac{1}{R_5} & 0 \\ 0 & 0 & \frac{1}{R_3} & 0 & \frac{1}{R_5} & -\frac{1}{R_6} \\ -1 & 1 & 0 & 1 & 0 & 0 \\ 0 & 0 & 0 & -1 & 1 & 1 \\ 0 & -1 & 1 & 0 & -1 & 0 \end{pmatrix} \cdot \begin{pmatrix} U_1 \\ U_2 \\ U_3 \\ U_4 \\ U_5 \\ U_6 \end{pmatrix} = \begin{pmatrix} 0 \\ I_{Q5} \\ -I_{Q5} \\ U_{Q1} \\ -U_{Q6} \\ 0 \end{pmatrix}$$

Mischformen von unbekanntem Strömen und Spannungen

$$\begin{pmatrix} -1 & -1 & -1 & 0 & 0 & 0 \\ 0 & 1 & 0 & -\frac{1}{R_4} & -\frac{1}{R_5} & 0 \\ 0 & 0 & 1 & 0 & \frac{1}{R_5} & -\frac{1}{R_6} \\ -R_1 & R_2 & 0 & 1 & 0 & 0 \\ 0 & 0 & 0 & -1 & 1 & 1 \\ 0 & -R_2 & R_3 & 0 & -1 & 0 \end{pmatrix} \cdot \begin{pmatrix} I_1 \\ I_2 \\ I_3 \\ U_4 \\ U_5 \\ U_6 \end{pmatrix} = \begin{pmatrix} 0 \\ I_{Q5} \\ -I_{Q5} \\ U_{Q1} \\ -U_{Q6} \\ 0 \end{pmatrix}$$

Lösen des Gleichungssystems

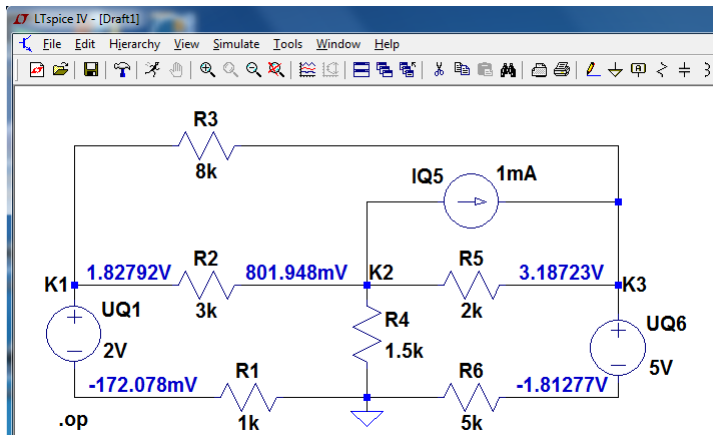
$$M \cdot X = Q \quad \Rightarrow \quad X = M^{-1} \cdot Q$$

M – quadratische Matrix; X – Vektor der Unbekannten; Q – Vektor der gegebenen Quellenwerte.

```

R1 = ...; R2 = ...; ...           % Widerstandswerte in Ohm
UQ1 = ...; UQ6 = ...;           % Quellenspannungen in V
IQ5 = ...;                       % Quellenstrom in A
M = [-1  -1  -1  0  0  0; % Matrix zur Beschreibung
      0   1  0  -1  -1  0; % der Schaltungsstruktur
      0   0  1  0   1  -1;
     -R1  R2  0  R4  0  0;
      0   0  0 -R4  R5  R6;
      0 -R2  R3  0 -R5  0];
Q = [0; IQ5; -IQ5; UQ1, -UQ6; 0]; % Quellenwerte
I = (M^-1)*Q;                    % eigentliche Berechnung
I                                     % Ergebnisanzeige
    
```

Analyse mit Schaltungssimulator (z.B. LTSpice)



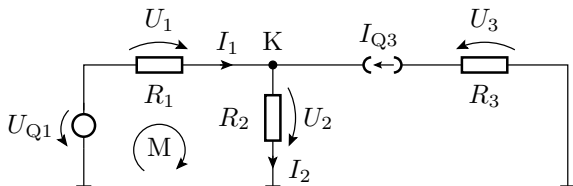
Schaltplaneingabe, Simulation starten, ... Automatische Extraktion und Lösung der Gleichungssysteme.



Nützliche Vereinfachungen

Bekannter Zweigstrom

Über Zweigen mit bekanntem Strom (mit einer Stromquelle) ist keine Masche erforderlich. Einsparung einer Maschengleichung.



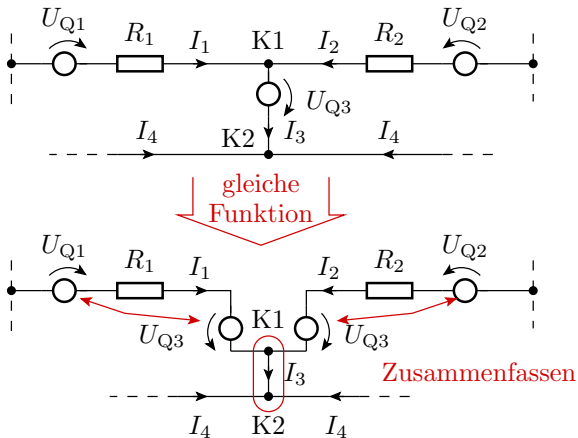
Für die Berechnung der Ströme I_1 und I_2 sowie der Spannungen U_1 und U_2 genügen die Gleichungen:

$$\begin{aligned} \text{K} : \quad I_1 - I_2 &= -I_{Q3} \\ \text{M1} : \quad R_1 \cdot I_1 + R_2 \cdot I_2 &= U_{Q1} \end{aligned}$$

U_3 ist von I_1 und I_2 unabhängig.

Bekannte Zweigspannung

Für Zweige mit bekanntem Spannungsabfall (Spannungsquelle) genügt die Summe der Knotengleichungen beider Seiten:





Getrennte Teilschaltungen

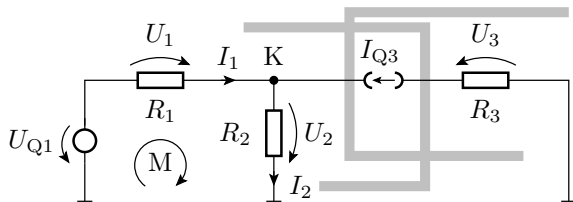
Teilschaltungen sind auch dann schon elektrisch voneinander getrennt, wenn sie:

- nur über einen Knoten (z.B. den Bezugspunkt),
- nur über Zweige mit bekannten Strömen und/oder
- nur über Knoten mit bekannten Potenzialen

verbunden sind.

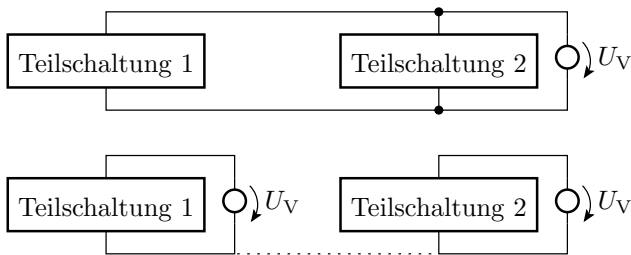
Bei nur einem gemeinsamen Knoten gibt es keinen geschlossenen Stromkreis, über den zwischen den Teilschaltungen Strom hin- und herfließen kann.

Verbindung über Zweige mit konstantem Strom





Verbindung über Knoten mit konstantem Potenzial z.B. derselben Spannungsversorgung



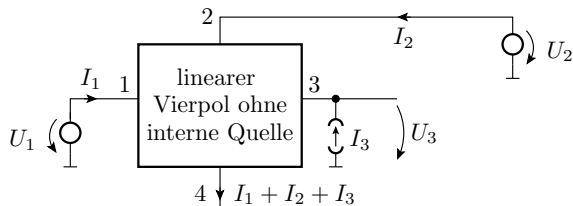
U_V Versorgungsspannung

..... kein Strom, da kein geschlossener Stromkreis



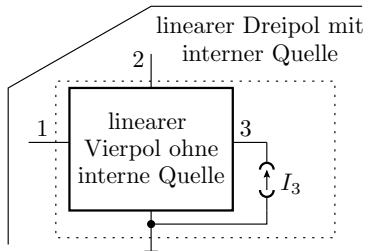
Gesteuerte Quellen

Lineare Schaltungen mit mehr als zwei Anschlüssen

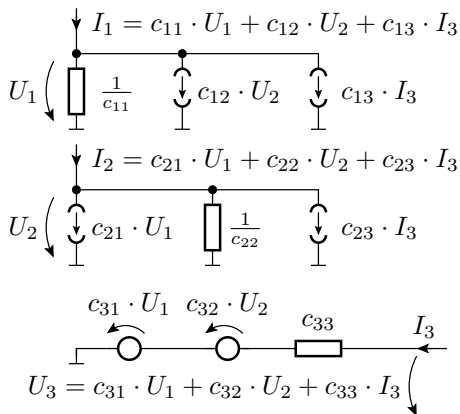


$$\begin{pmatrix} I_1 \\ I_2 \\ I_3 \end{pmatrix} = \begin{pmatrix} c_{11} & c_{12} & c_{13} \\ c_{21} & c_{22} & c_{23} \\ c_{31} & c_{32} & c_{33} \end{pmatrix} \cdot \begin{pmatrix} U_1 \\ U_2 \\ I_3 \end{pmatrix}$$

Ein Anschluss ist der Bezugspunkt. An alle anderen wird einen Spannungs- oder Stromquelle angeschlossen.



Nachbildung durch Widerstände und gesteuerte Quellen



Verallgemeinerung

Jede lineare Schaltung kann durch eine Ersatzschaltung aus

- Widerständen,
- konstanten Quellen (externe konstante Quellen können als interne Quellen betrachtet werden) und
- und gesteuerten linearen Quellen

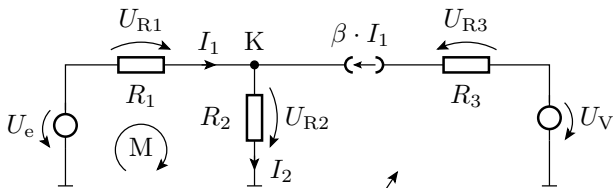
nachbildet werden.

Tatsache

Um auch beliebige lineare Mehrpole (Bauteile mit mehr als zwei Anschlüssen) berücksichtigen zu können, benötigt der Ersatzschaltungskatalog zusätzlich gesteuerte lineare Quellen.

Systeme aus konstanten Quellen, linear gesteuerten Quellen und Widerständen sind durch lineare Gleichungssysteme beschreibbar.

Beispiel



keine Masche über Stromquellen

Knoten- und eine Maschengleichung:

$$K: I_1 - I_2 + \beta \cdot I_1 = 0$$

$$M: R_1 \cdot I_1 + R_2 \cdot I_2 = U_e$$

Lösung in Matrixform:

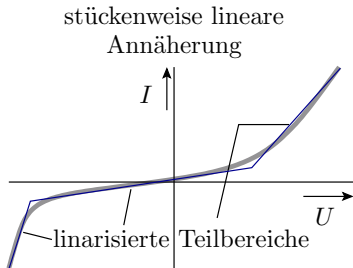
$$\begin{pmatrix} (1 + \beta) & -1 \\ R_1 & R_2 \end{pmatrix} \cdot \begin{pmatrix} I_1 \\ I_2 \end{pmatrix} = \begin{pmatrix} 0 \\ U_e \end{pmatrix}$$



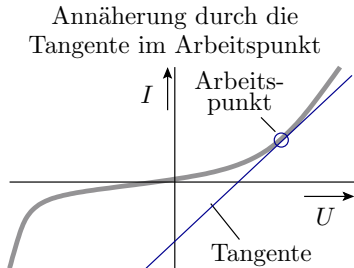
Bauteile mit nichtlinearer Kennlinie

Nichtlineare Zweipole

Annäherung der Strom-Spannungs-Beziehung nichtlinearer Zweipole durch eine lineare Beziehung:



Wenige zu unterscheidende Fälle. Gut für Überschlüsse. Für diese Vorlesung genau genug.



Iterative numerische Lösungssuche. Simulator. Viel genauer. Wird in Elektronik II behandelt.

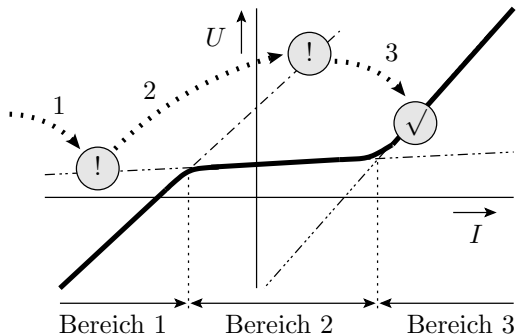





Grundalgorithmus

Arbeitsbereichssuche mit einer linearen Schaltungsanalyse in der inneren Schleife:

Abschätzen der Arbeitsbereiche aller nichtlinearen Bauteile	
Wiederhole	
Aufstellen der linearen Ersatzschaltung für die Arbeitsbereiche	
Berechnung der Spannungen und Ströme der linearen Ersatzschaltung	
Kontrolle für alle Bauteile: Ergebnis im Arbeitsbereich?	
ja	nein
Berechnung fertig	anderer Arbeitsbereich für ein oder mehrere Bauteile

Arbeitsbereichssuche für eine Schaltung mit einem nichtlinearen Zweipol mit drei linearen Kennlinienästen



-  Lösungssuche
-  falscher Kennlinienbereich
-  richtiger Kennlinienbereich

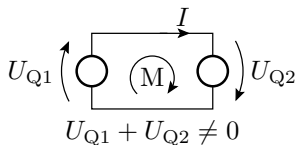


Fehler in der Ersatzschaltung

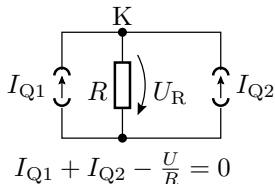
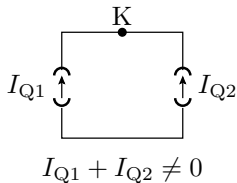
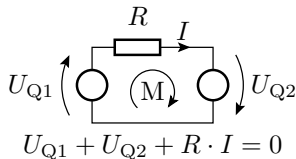
Die kirchhoffschen Sätze gelten immer

..., aber die Ersatzschaltung kann falsch oder unvollständig sein.
 Beispiele sind die Vernachlässigung der Leitungswiderstände bzw.
 Isolationsleitwerte in den nachfolgenden Schaltungen:

scheinbarer Widerspruch



richtiges Ersatzschaltbild

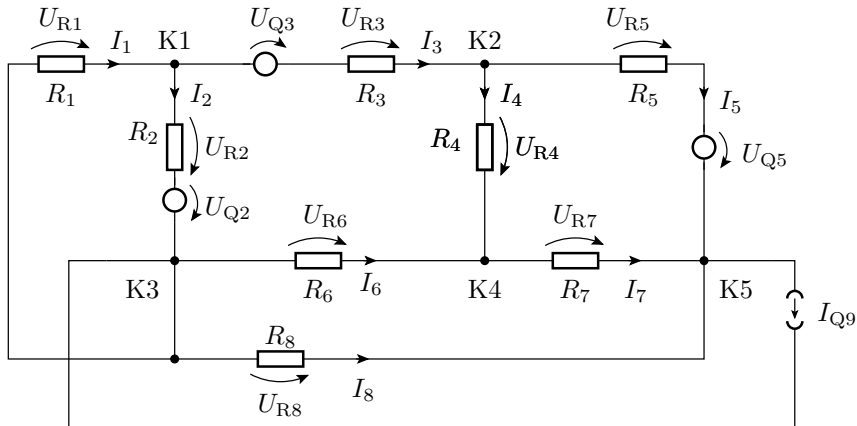


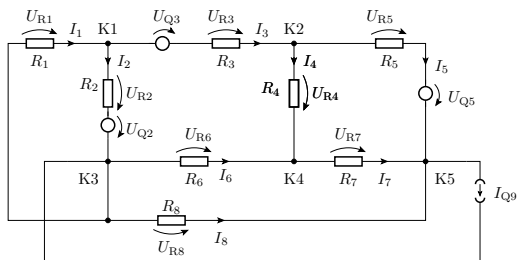


Aufgaben

Aufgabe 1.6: Maschen und Knotengleichungen

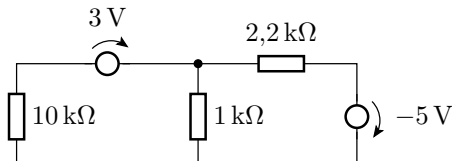
Stellen Sie Maschen- und Knotengleichungen zur Berechnung aller unbekanntten Ströme auf:

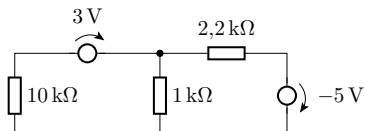




Aufgabe 1.7: Wie groß sind die Ströme durch die Widerstände?

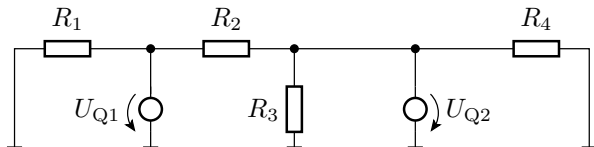
- 1 Stellen Sie Maschen- und Knotengleichungen zur Berechnung der Ströme auf.
- 2 Programmieren Sie die Gleichungen in Matlab.





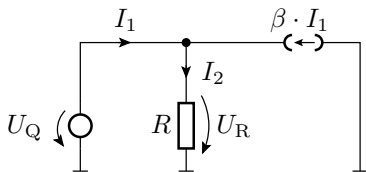
Aufgabe 1.8: Elektrisch getrennte Teilschaltungen

In welche elektrisch voneinander unabhängig analysierbare Teilschaltungen lässt sich die nachfolgende Schaltung aufspalten?



Aufgabe 1.9: Gesteuerte Stromquelle

Wie groß ist der Strom I_1 ?



$$\begin{aligned}
 U_Q &= 1 \text{ V} \\
 R &= 1 \text{ k}\Omega \\
 \beta &= 100
 \end{aligned}$$